

SECSB – 502

Question Booklet Sl. No.

NA211389

A

Version Code

A

V SEMESTER ALL U.G. COURSES
EXAMINATION, DECEMBER 2024/JANUARY 2025
(NEP Scheme) (Freshers and Repeaters)
EMPLOYABILITY SKILLS (SEC)

Time Allowed : 2 Hours

Maximum Marks : 50

INSTRUCTIONS TO CANDIDATES

1. Calculator is not allowed.
2. Immediately after the commencement of the Examination, you should check that this Booklet does not have any unprinted or torn or missing pages or items, etc. If any of the above defects is found, get it replaced by a Complete Question Booklet of the available series.
3. Write clearly the Question Booklet Version Code **A, B, C** or **D** in the appropriate space provided for the purpose, in the OMR Answer Sheet.
4. Enter the name of the Subject, Reg. No., Student ID, Q.P. Code, Question Booklet version code and affix Signature on the OMR sheet. As the answer sheets are designed to suit the Optical Mark Reader (OMR) system, special care should be taken to fill those items accurately.
5. This Question Booklet contains **50** questions. Each question carries **1** mark. **All** questions must be attempted. Each question contains four answers, among them one correct answer should be selected and shade the corresponding option in the OMR sheet.
6. All the answers should be marked only on the OMR sheet provided and only with a **black** or **blue** ink ball point pen. If more than one circle is shaded / wrongly shaded / half shaded for a given question no marks will be awarded.
7. Q. No. 1 to 40 are in both English and Kannada languages. If any confusion arises in the Kannada version, please refer to the English version of the questions. Q. No. 41 to 50 are given in English only.
8. Immediately after the final bell indicating the closure of the examination, stop making any further markings in the OMR Answer Sheet. Be seated till the OMR Answer Sheet is collected. After handing over the OMR Answer Sheet to the Invigilator you may leave the examination hall.

ಗಮನಿಸಿ : ಸೂಚನೆಗಳ ಕನ್ನಡ ಆವೃತ್ತಿಯು ಈ ಪುಟದ ಹಿಂಭಾಗದಲ್ಲಿ ಮುದ್ರಿಸಲ್ಪಟ್ಟಿದೆ.



1. What is the term for the agreed amount paid to an employee on a daily, weekly or monthly basis ?

- A) Commission B) Salary C) Gratuity D) Overtime

ಉದ್ಯೋಗಿಗೆ ಪ್ರತಿದಿನ, ವಾರ ಅಥವಾ ತಿಂಗಳಿಗೆ ಪಾವತಿಸಲಾಗುವ ಒಪ್ಪಂದಿತ ಮೊತ್ತಕ್ಕೆ ಬಳಸುವ ಪದ ಯಾವುದು ?

- A) ಕಮಿಷನ್ B) ವೇತನ C) ನಿವೃತ್ತಿಫಲ D) ಹೆಚ್ಚುವರಿ ಸಮಯ

2. What does UPSC stands for ?

- A) Union Public Service Commission
B) United Public Sector Council
C) Universal Public Service Committee
D) Union Professional Services Council

UPSC ಪೂರ್ಣ ರೂಪ ಏನು ?

- A) ಯೂನಿಯನ್ ಪಬ್ಲಿಕ್ ಸರ್ವಿಸ್ ಕಮಿಷನ್
B) ಯುನೈಟೆಡ್ ಪಬ್ಲಿಕ್ ಸೆಕ್ಟರ್ ಕೌನ್ಸಿಲ್
C) ಯುನಿವರ್ಸಲ್ ಪಬ್ಲಿಕ್ ಸರ್ವಿಸ್ ಕಮಿಟಿ
D) ಯೂನಿಯನ್ ಪ್ರೊಫೆಷನಲ್ ಸರ್ವಿಸಸ್ ಕೌನ್ಸಿಲ್

3. Which of the following is a preliminary exam conducted by UPSC for recruiting candidates into various civil services ?

- A) NDA Exam
B) Civil Services Aptitude Test (CSAT)
C) NET Exam
D) JEE Advanced

UPSC ವಿವಿಧ ನಾಗರಿಕ ಸೇವೆಗಳಿಗಾಗಿ ಅಭ್ಯರ್ಥಿಗಳನ್ನು ಆಯ್ಕೆ ಮಾಡಲು ನಡೆಸುವ ಪ್ರಾಥಮಿಕ ಪರೀಕ್ಷೆ ಯಾವುದು ?

- A) ಎನ್‌ಡಿಎ ಪರೀಕ್ಷೆ
B) ಸಿವಿಲ್ ಸರ್ವಿಸಸ್ ಆಪ್ಟಿಟ್ಯೂಡ್ ಟೆಸ್ಟ್ (CSAT)
C) ಎನ್‌ಇಟಿ ಪರೀಕ್ಷೆ
D) ಜೇಇಎಡ್‌ವಾನ್ಸ್

SPACE FOR ROUGH WORK

A



4. What is the upper age limit for general category candidates appearing for the UPSC Civil Services Examination ?

- A) 30 years
B) 32 years
C) 35 years
D) 40 years

UPSC ನಾಗರಿಕ ಸೇವಾ ಪರೀಕ್ಷೆ ಬರೆಯುವ ಸಾಮಾನ್ಯ ವರ್ಗದ ಅಭ್ಯರ್ಥಿಗಳ ಗರಿಷ್ಠ ವಯಸ್ಸು ಎಷ್ಟು ?

- A) 30 ವರ್ಷ
B) 32 ವರ್ಷ
C) 35 ವರ್ಷ
D) 40 ವರ್ಷ

5. What does NDA stands for in the context of competitive exams in India ?

- A) National Defence Academy
B) National Development Authority
C) New Delhi Authority
D) National Drafting Agency

ಭಾರತದಲ್ಲಿ ಸ್ಪರ್ಧಾತ್ಮಕ ಪರೀಕ್ಷೆಗಳ ಹಿನ್ನೆಲೆಯಲ್ಲಿ NDA ಏನನ್ನು ಸೂಚಿಸುತ್ತದೆ ?

- A) ನ್ಯಾಶನಲ್ ಡಿಫೆನ್ಸ್ ಅಕಾಡೆಮಿ
B) ನ್ಯಾಶನಲ್ ಡೆವಲಪ್‌ಮೆಂಟ್ ಅಥೋರಿಟಿ
C) ನ್ಯೂ ಡೆಲ್ಲಿ ಅಥೋರಿಟಿ
D) ನ್ಯಾಶನಲ್ ಡ್ರಾಫ್ಟಿಂಗ್ ಏಜೆನ್ಸಿ

6. What is the minimum educational qualification required for a driver position in KSRTC ?

- A) SSLC/10th pass with a valid heavy vehicle driving licence
B) PUC/12th pass with a valid heavy vehicle driving licence
C) Bachelor degree in any field
D) No formal education required

KSRTCಯಲ್ಲಿ ಚಾಲಕ ಹುದ್ದೆಗೆ ಅಗತ್ಯವಿರುವ ಕನಿಷ್ಠ ಶೈಕ್ಷಣಿಕ ಅರ್ಹತೆ ಏನು ?

- A) ಭಾರೀ ವಾಹನ ಚಾಲನಾ ಪರವಾನಗಿಯೊಂದಿಗೆ SSLC/10ನೇ ತರಗತಿ ತೇರ್ಗಡೆ
B) ಭಾರೀ ವಾಹನ ಚಾಲನಾ ಪರವಾನಗಿಯೊಂದಿಗೆ PUC/12ನೇ ತರಗತಿ ತೇರ್ಗಡೆ
C) ಯಾವುದೇ ಕ್ಷೇತ್ರದಲ್ಲಿ ಪದವಿ
D) ಯಾವುದೇ ಔಪಚಾರಿಕ ಶಿಕ್ಷಣದ ಅಗತ್ಯವಿಲ್ಲ

SPACE FOR ROUGH WORK

A



7. Which organization conducts the Karnataka Administrative Services (KAS) exam ?

- A) KPSC B) SSC
C) UPSC D) IBPS

ಕರ್ನಾಟಕ ಆಡಳಿತ ಸೇವೆ (KAS) ಪರೀಕ್ಷೆಯನ್ನು ನಡೆಸುವ ಜವಾಬ್ದಾರಿ ಹೊಂದಿರುವ ಸಂಸ್ಥೆ ಯಾವುದು ?

- A) KPSC B) SSC
C) UPSC D) IBPS

8. Which of the following newspapers is widely recommended for preparing for the UPSC Civil Services Examination ?

- A) The Hindu
B) The Times of India
C) The Economic Times
D) Deccan Chronicle

UPSC ನಾಗರಿಕ ಸೇವಾ ಪರೀಕ್ಷೆಗೆ ಸಿದ್ಧವಾಗಲು ಯಾವ ದಿನಪತ್ರಿಕೆಯು ವ್ಯಾಪಕವಾಗಿ ಶಿಫಾರಸ್ಸು ಮಾಡಲ್ಪಟ್ಟಿದೆ ?

- A) ದಿ ಹಿಂದೂ
B) ದಿ ಟೈಮ್ಸ್ ಆಫ್ ಇಂಡಿಯಾ
C) ದಿ ಎಕನಾಮಿಕ್ ಟೈಮ್ಸ್
D) ಡೆಕ್ಕನ್ ಕ್ರೋನಿಕಲ್

9. Which of the following exams is specifically conducted for recruitment in regional rural banks ?

- A) IBPS RRB B) SBI Clerk
C) RBI Grade B D) KPSC Group C

ಪ್ರಾದೇಶಿಕ ಗ್ರಾಮೀಣ ಬ್ಯಾಂಕ್‌ಗಳಲ್ಲಿ ನೇಮಕಾತಿಗಾಗಿ ವಿಶೇಷವಾಗಿ ನಡೆಸುವ ಪರೀಕ್ಷೆ ಯಾವುದು ?

- A) ಐಬಿಪಿಎಸ್ ಆರ್‌ಆರ್‌ಬಿ B) ಎಸ್‌ಬಿಐ ಕ್ಲರ್ಕ್
C) ಆರ್‌ಬಿಐ ಗ್ರೇಡ್ ಬಿ D) ಕೆಪಿಎಸ್‌ಸಿ ಗ್ರೂಪ್ ಸಿ

SPACE FOR ROUGH WORK

A



10. Which of the following exams is conducted for the recruitment of teachers in government schools in India ?

- | | |
|------------|---------|
| A) CTET | B) NET |
| C) SSC CGL | D) GATE |

ಭಾರತದಲ್ಲಿನ ಸರ್ಕಾರಿ ಶಾಲೆಗಳಲ್ಲಿ ಶಿಕ್ಷಕರ ನೇಮಕಾತಿಗಾಗಿ ಈ ಕೆಳಗಿನ ಯಾವ ಪರೀಕ್ಷೆಯನ್ನು ನಡೆಸಲಾಗುತ್ತದೆ ?

- | | |
|------------|---------|
| A) CTET | B) NET |
| C) SSC CGL | D) GATE |

11. Which of the following post is not recruited through the RRB NTPC exam ?

- A) Track Maintainers
B) Assistant Station Master
C) Junior Engineer
D) Clerks

ಈ ಕೆಳಗಿನವುಗಳಲ್ಲಿ RRB NTPC ಪರೀಕ್ಷೆಯ ಮೂಲಕ ನೇಮಕಗೊಳ್ಳದ ಹುದ್ದೆ ಯಾವುದು ?

- A) ಟ್ರ್ಯಾಕ್ ನಿರ್ವಾಹಕರು
B) ಸಹಾಯಕ ಸ್ಟೇಷನ್ ಮಾಸ್ಟರ್
C) ಜೂನಿಯರ್ ಎಂಜಿನಿಯರ್
D) ಗುಮಾಸ್ತರು

12. Which of the following number is an even number ?

- | | |
|-------|-------|
| A) 19 | B) 21 |
| C) 42 | D) 55 |

ಈ ಕೆಳಗಿನ ಯಾವ ಸಂಖ್ಯೆಯು ಸಮ ಸಂಖ್ಯೆಯಾಗಿದೆ ?

- | | |
|-------|-------|
| A) 19 | B) 21 |
| C) 42 | D) 55 |

SPACE FOR ROUGH WORK

A



13. What is the HCF of 48 and 72 ?

A) 12

B) 18

C) 24

D) 36

48 ಮತ್ತು 72 ರ ಮ.ಸಾ.ಅ.

A) 12

B) 18

C) 24

D) 36

14. What is the LCM of 5, 10 and 15 ?

A) 15

B) 30

C) 45

D) 60

5, 10 ಮತ್ತು 15 ರ ಲ.ಸಾ.ಅ.

A) 15

B) 30

C) 45

D) 60

15. If the ratio of two numbers is 4 : 7 and their sum is 66, what is the larger number ?

A) 38

B) 42

C) 44

D) 48

ಎರಡು ಸಂಖ್ಯೆಗಳ ಅನುಪಾತವು 4 : 7 ಮತ್ತು ಅವುಗಳ ಮೊತ್ತವು 66 ಆಗಿದ್ದರೆ, ದೊಡ್ಡ ಸಂಖ್ಯೆ ಯಾವುದು ?

A) 38

B) 42

C) 44

D) 48

16. Find the simple interest on a principal amount of ₹ 3,000 at a rate of 6% per annum for 3 years.

A) ₹ 540

B) ₹ 600

C) ₹ 720

D) ₹ 750

₹ 3,000ದ ಅಸಲು ಮೊತ್ತದ ಮೇಲೆ 3 ವರ್ಷಗಳವರೆಗೆ ವಾರ್ಷಿಕ 6% ದರದಲ್ಲಿ ಸರಳ ಬಡ್ಡಿಯನ್ನು ಕಂಡುಹಿಡಿಯಿರಿ.

A) ₹ 540

B) ₹ 600

C) ₹ 720

D) ₹ 750

SPACE FOR ROUGH WORK

A



17. What is 10% of 200 ?

- | | |
|-------|-------|
| A) 15 | B) 20 |
| C) 25 | D) 30 |

200 ರ 10% ಎಷ್ಟು ?

- | | |
|-------|-------|
| A) 15 | B) 20 |
| C) 25 | D) 30 |

18. If 5 workers can complete a task in 10 days, how many days will 10 workers take to complete the same task ?

- | | |
|------------|------------|
| A) 5 days | B) 10 days |
| C) 15 days | D) 20 days |

5 ಕೆಲಸಗಾರರು 10 ದಿನಗಳಲ್ಲಿ ಕೆಲಸವನ್ನು ಪೂರ್ಣಗೊಳಿಸಿದರೆ, 10 ಕೆಲಸಗಾರರು ಅದೇ ಕೆಲಸವನ್ನು ಪೂರ್ಣಗೊಳಿಸಲು ಎಷ್ಟು ದಿನಗಳನ್ನು ತೆಗೆದುಕೊಳ್ಳುತ್ತಾರೆ ?

- | | |
|--------------|--------------|
| A) 5 ದಿನಗಳು | B) 10 ದಿನಗಳು |
| C) 15 ದಿನಗಳು | D) 20 ದಿನಗಳು |

19. A car travels 180 km in 3 hours. What is its speed ?

- A) 50 km/h
B) 60 km/h
C) 70 km/h
D) 80 km/h

ಒಂದು ಕಾರು 3 ಗಂಟೆಗಳಲ್ಲಿ 180 ಕಿ.ಮೀ. ಚಲಿಸಿದರೆ, ಅದರ ವೇಗ ಎಷ್ಟು ?

- A) 50 ಕಿ.ಮೀ./ಗಂ.
B) 60 ಕಿ.ಮೀ./ಗಂ.
C) 70 ಕಿ.ಮೀ./ಗಂ.
D) 80 ಕಿ.ಮೀ./ಗಂ.

SPACE FOR ROUGH WORK

A



20. A shopkeeper buys an item for ₹ 400 and sells it for ₹ 500. What is his profit percentage ?

A) 25%

B) 30%

C) 20%

D) 15%

ಅಂಗಡಿಯವನು ₹ 400 ಕ್ಕೆ ವಸ್ತುವನ್ನು ಖರೀದಿಸಿ ₹ 500 ಕ್ಕೆ ಮಾರುತ್ತಾನೆ. ಅವನ ಶೇಕಡಾವಾರು ಲಾಭ ಎಷ್ಟು ?

A) 25%

B) 30%

C) 20%

D) 15%

21. The distribution of a company's monthly income is as follows :

- Profit : 25%
- Salaries : 35%
- Rent : 20%
- Miscellaneous : 10%
- Utilities : 10%

If the total monthly income is ₹ 80,000, how much money is spent on rent ?

A) ₹ 16,000

B) ₹ 12,000

C) ₹ 14,000

D) ₹ 20,000

ಒಂದು ಕಂಪನಿಯ ಮಾಸಿಕ ಆದಾಯದ ವಿತರಣೆಯು ಈ ಕೆಳಗಿನಂತಿದೆ :

- ಲಾಭ : 25%
- ಸಂಬಳ : 35%
- ಬಾಡಿಗೆ : 20%
- ವಿವಿಧ : 10%
- ಉಪಯುಕ್ತತೆಗಳು : 10%

ಮಾಸಿಕ ಆದಾಯ ₹ 80,000 ಇದ್ದರೆ, ಬಾಡಿಗೆಗೆ ಎಷ್ಟು ಹಣ ಖರ್ಚು ಮಾಡಲಾಗಿದೆ ?

A) ₹ 16,000

B) ₹ 12,000

C) ₹ 14,000

D) ₹ 20,000

SPACE FOR ROUGH WORK

A



22. A company's monthly income is ₹ 1,20,000. If 15% of the income is spent on utilities, how much is spent on utilities ?

- A) ₹ 15,000 B) ₹ 18,000
C) ₹ 12,000 D) ₹ 10,000

ಒಂದು ಕಂಪನಿಯ ಮಾಸಿಕ ಆದಾಯ ₹ 1,20,000 ಆಗಿದ್ದರೆ, ಅದರಲ್ಲಿ 15% ಉಪಯುಕ್ತತೆಗಾಗಿ ಖರ್ಚು ಮಾಡಲಾಗಿದ್ದರೆ, ಉಪಯುಕ್ತತೆಗಾಗಿ ಎಷ್ಟು ಖರ್ಚು ಮಾಡಲಾಗಿದೆ ?

- A) ₹ 15,000 B) ₹ 18,000
C) ₹ 12,000 D) ₹ 10,000

23. If a company's total monthly expenses amount to ₹ 50,000 and 10% of the expenses are allocated for miscellaneous costs, what is the total amount spent on miscellaneous costs ?

- A) ₹ 2,500 B) ₹ 5,000
C) ₹ 4,000 D) ₹ 3,000

ಒಂದು ಕಂಪನಿಯ ಒಟ್ಟು ಮಾಸಿಕ ಖರ್ಚು ₹ 50,000 ಆಗಿದೆ ಮತ್ತು 10% ಖರ್ಚು ವಿವಿಧ ವೆಚ್ಚಗಳಿಗೆ ಮೀಸಲಿಡಲಾಗಿದೆ. ಆದರೆ, ವಿವಿಧ ವೆಚ್ಚಗಳಿಗೆ ಒಟ್ಟು ಎಷ್ಟು ಖರ್ಚು ಮಾಡಲಾಗಿದೆ ?

- A) ₹ 2,500 B) ₹ 5,000
C) ₹ 4,000 D) ₹ 3,000

24. Which of the following years is a leap year ?

- A) 1800 B) 1904
C) 2010 D) 2100

ಈ ಕೆಳಗಿನ ಯಾವ ವರ್ಷ ಅಧಿಕ ವರ್ಷವಾಗಿದೆ ?

- A) 1800 B) 1904
C) 2010 D) 2100

SPACE FOR ROUGH WORK

A



25. How many times in a day do the hour and minute hands of a clock form a 90-degree angle ?

- A) 22 B) 24
C) 44 D) 48

ಗಡಿಯಾರದ ಗಂಟೆ ಮತ್ತು ನಿಮಿಷದ ಮುಳ್ಳುಗಳು ಒಂದು ದಿನದಲ್ಲಿ ಎಷ್ಟು ಬಾರಿ 90 ಡಿಗ್ರಿ ಕೋನವನ್ನು ರೂಪಿಸುತ್ತವೆ ?

- A) 22 B) 24
C) 44 D) 48

26. A mother is 30 years old and her daughter is 10 years old. How many years ago was the mother's age five times her daughter's age ?

- A) 5 years ago B) 6 years ago
C) 8 years ago D) 10 years ago

ಒಬ್ಬ ತಾಯಿಗೆ 30 ವರ್ಷಗಳು ಮತ್ತು ಅವಳ ಮಗಳು 10 ವರ್ಷದವಳಾಗಿದ್ದರೆ, ಎಷ್ಟು ವರ್ಷಗಳ ಹಿಂದೆ ತಾಯಿಯ ವಯಸ್ಸು ಮಗಳ ವಯಸ್ಸಿನ ಐದು ಪಟ್ಟು ಇತ್ತು ?

- A) 5 ವರ್ಷಗಳ ಹಿಂದೆ B) 6 ವರ್ಷಗಳ ಹಿಂದೆ
C) 8 ವರ್ಷಗಳ ಹಿಂದೆ D) 10 ವರ್ಷಗಳ ಹಿಂದೆ

27. In a certain code language, TRAIN is written as USBJO. How is PLANE written in that code ?

- A) QNBMF B) QMBNF
C) QMNFE D) QMBOF

ಒಂದು ನಿರ್ದಿಷ್ಟ ಕೋಡ್ ಭಾಷೆಯಲ್ಲಿ, TRAIN ಅನ್ನು USBJO ಎಂದು ಬರೆಯಲಾಗುತ್ತದೆ. ಆ ಕೋಡ್‌ನಲ್ಲಿ PLANE ಅನ್ನು ಹೇಗೆ ಬರೆಯಲಾಗುತ್ತದೆ ?

- A) QNBMF B) QMBNF
C) QMNFE D) QMBOF

SPACE FOR ROUGH WORK

A



28. Pointing to a woman, Ravi said, “She is the daughter of my father’s only daughter”.
How is the woman related to Ravi ?

- A) Sister
- B) Mother
- C) Niece
- D) Uncle

ಒಂದು ಮಹಿಳೆಯನ್ನು ತೋರಿಸುತ್ತಾ, ರವಿ ಹೇಳಿದರು, “ಅವಳು ನನ್ನ ತಂದೆಯ ಏಕೈಕ ಮಗಳ ಮಗಳು”. ಅವಳು ರವಿಗೆ ಹೇಗೆ ಸಂಬಂಧ ಹೊಂದಿದ್ದಾಳೆ ?

- A) ಸಹೋದರಿ
- B) ತಾಯಿ
- C) ಸೋದರ ಸೋಸೆ
- D) ಚಿಕ್ಕಪ್ಪ

29. There are six people standing in a line : P, Q, R, S, T and U.

- P is to the left of Q.
- R is to the right of S and to the left of T.
- U is to the right of T.

Who is standing second from the left ?

- | | |
|------|------|
| A) P | B) Q |
| C) R | D) S |

ಒಂದು ಸಾಲಿನಲ್ಲಿ ಆರು ಜನರು ನಿಂತಿದ್ದಾರೆ : P, Q, R, S, T ಮತ್ತು U.

- P, Q ನ ಎಡಕ್ಕೆ ನಿಂತಿದ್ದಾನೆ.
- R, S ನ ಬಲಕ್ಕೆ ಮತ್ತು T ಯ ಎಡಕ್ಕೆ ನಿಂತಿದ್ದಾನೆ.
- U, T ಯ ಬಲಕ್ಕೆ ನಿಂತಿದ್ದಾನೆ.

ಎಡದಿಂದ ಎರಡನೇ ಸ್ಥಾನದಲ್ಲಿ ನಿಂತವರು ಯಾರು ?

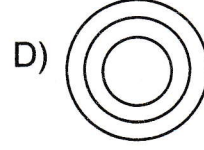
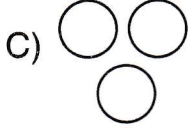
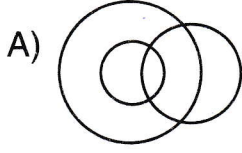
- | | |
|------|------|
| A) P | B) Q |
| C) R | D) S |

SPACE FOR ROUGH WORK

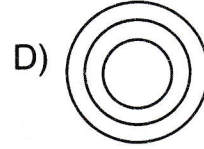
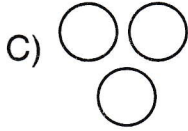
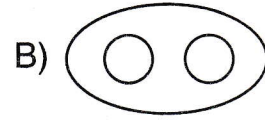
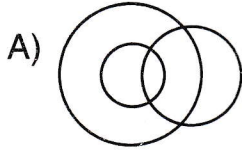
A



30. Which of the following diagrams indicates the best relation between Doctors, Lawyers and Auditors ?



ಕೆಳಗಿನ ಯಾವ ರೇಖಾಚಿತ್ರವು ವೈದ್ಯರು, ವಕೀಲರು ಮತ್ತು ಲೆಕ್ಕ ಪರಿಶೋಧಕರ ನಡುವಿನ ಉತ್ತಮ ಸಂಬಂಧವನ್ನು ಸೂಚಿಸುತ್ತದೆ ?



31. If the letters in the word “EXAMPLE” are arranged in alphabetical order, which letter will be first ?

A) E

B) A

C) L

D) M

“EXAMPLE” ಪದದಲ್ಲಿನ ಅಕ್ಷರಗಳನ್ನು ಇಂಗ್ಲೀಷ್ ವರ್ಣಮಾಲೆಯ ಕ್ರಮದಲ್ಲಿ ಜೋಡಿಸಿದರೆ, ಯಾವ ಅಕ್ಷರವು ಮೊದಲನೆಯದಾಗಿರುತ್ತದೆ ?

A) E

B) A

C) L

D) M

SPACE FOR ROUGH WORK

A



32. Find the missing term : 2, 4, 8, 16, 32, ?

A) 40

B) 64

C) 48

D) 36

ಮುಂದಿನ ಸಂಖ್ಯೆಯನ್ನು ಹುಡುಕಿ : 2, 4, 8, 16, 32, ?

A) 40

B) 64

C) 48

D) 36

33. Choose the correct option to complete the analogy.

Bird : Fly :: Fish : ?

A) Swim

B) Dive

C) Sleep

D) Jump

ಸಾಧ್ಯವನ್ನು ಪೂರ್ಣಗೊಳಿಸಲು ಸರಿಯಾದ ಆಯ್ಕೆಯನ್ನು ಆರಿಸಿ.

ಹಕ್ಕಿ : ಹಾರು :: ಮೀನು : ?

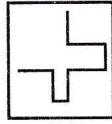
A) ಈಜು

B) ಮುಳುಗು

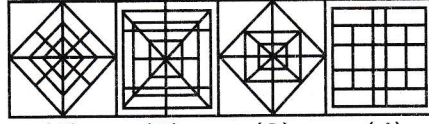
C) ನಿದ್ರೆ

D) ಜಿಗಿ

34. Find out the alternative figure which contains figure (X) as its part.



(X)



(1)

(2)

(3)

(4)

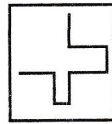
A) 1

B) 2

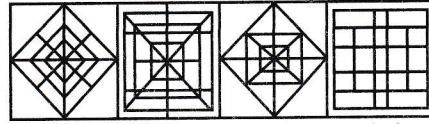
C) 3

D) 4

ಆಕೃತಿ (X) ಅನ್ನು ಅದರ ಭಾಗವಾಗಿ ಹೊಂದಿರುವ ಪರ್ಯಾಯ ಚಿತ್ರವನ್ನು ಕಂಡುಹಿಡಿಯಿರಿ.



(X)



(1)

(2)

(3)

(4)

A) 1

B) 2

C) 3

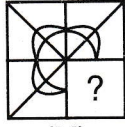
D) 4

SPACE FOR ROUGH WORK

A



35. Identify the figure that completes the pattern.



(X)



(1)



(2)



(3)



(4)

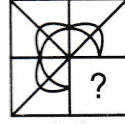
A) 1

B) 2

C) 3

D) 4

ಮಾದರಿಯನ್ನು ಪೂರ್ಣಗೊಳಿಸುವ ಆಕೃತಿಯನ್ನು ಗುರುತಿಸಿ.



(X)



(1)



(2)



(3)



(4)

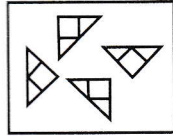
A) 1

B) 2


C) 3

D) 4

36. Find out which of the figures (1), (2), (3) and (4) can be formed from the pieces given in figure (X).



(X)



(1)

(2)

(3)

(4)

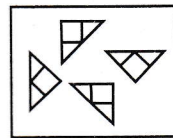
A) 1

B) 2


C) 3

D) 4

ಆಕೃತಿ (X) ನಲ್ಲಿ ನೀಡಲಾದ ತುಣುಕುಗಳಿಂದ (1), (2), (3) ಮತ್ತು (4) ಯಾವ ಚಿತ್ರವನ್ನು ರಚಿಸಬಹುದು ಎಂಬುದನ್ನು ಕಂಡುಹಿಡಿಯಿರಿ.



(X)



(1)

(2)

(3)

(4)

A) 1

B) 2

C) 3

D) 4

SPACE FOR ROUGH WORK

A



37. Choose the alternative which is closely resembles the mirror image of the given combination.

ANS43Q12

1. AN248Q1S
2. S1Q342NA
3. 2NA34Q51
4. 1SQ43AN2

A) 1 B) 2 C) 3 D) 4

ನೀಡಿರುವ ಸಂಯೋಜನೆಯ ಕನ್ನಡಿ ಪ್ರತಿಬಿಂಬ ಹೋಲುವ ಪರ್ಯಾಯವನ್ನು ಆರಿಸಿ.

ANS43Q12

1. AN248Q1S
2. S1Q342NA
3. 2NA34Q51
4. 1SQ43AN2

A) 1 B) 2 C) 3 D) 4

38. Choose the alternative which is closely resembles the water-image of the given combination.

A1M3b

1. V1W3P
2. V1W3P
3. V1W3P
4. V1W3P

A) 1 B) 2 C) 3 D) 4

ಕೊಟ್ಟಿರುವ ಸಂಯೋಜನೆಯ ನೀರಿನ ಪ್ರತಿಬಿಂಬ ಹೋಲುವ ಪರ್ಯಾಯವನ್ನು ಆರಿಸಿ.

A1M3b

1. V1W3P
2. V1W3P
3. V1W3P
4. V1W3P


A) 1 B) 2 C) 3 D) 4

SPACE FOR ROUGH WORK

A




39. How many dots lie opposite to the face having three dots, when the given figure is folded to form a cube ?




- A) 2 B) 4 C) 5 D) 6

ಕೊಟ್ಟಿರುವ ಆಕೃತಿಯನ್ನು ಘನವಾಗಿ ರೂಪಿಸಲು ಮಡಚಿದಾಗ, ಮೂರು ಚುಕ್ಕೆಗಳನ್ನು ಹೊಂದಿರುವ ಮುಖದ ಎದುರು ಎಷ್ಟು ಚುಕ್ಕೆಗಳು ಬರುತ್ತವೆ ?

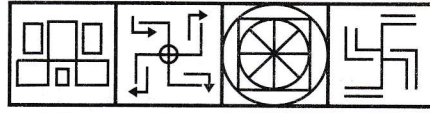


- A) 2 B) 4 C) 5 D) 6

40. Find out the alternative figure which contain figure (X) as its part.



(X)



(1)

(2)

(3)

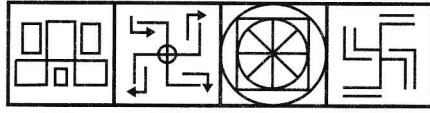
(4)

- A) 1 B) 2 C) 3 D) 4

ಚಿತ್ರ (X) ನ್ನು ಅದರ ಭಾಗವಾಗಿ ಹೊಂದಿರುವ ಪರ್ಯಾಯ ಚಿತ್ರವನ್ನು ಆರಿಸಿ.



(X)



(1)

(2)

(3)

(4)

- A) 1 B) 2 C) 3 D) 4

SPACE FOR ROUGH WORK

A



Direction (41-44) : Read the following passage and answer the questions.

The Great Barrier Reef, located off the northeastern coast of Australia, is one of the largest coral reef systems in the world. Stretching over 2,300 kilometers, it consists of over 2,900 individual reefs and 900 islands. The reef is home to a wide variety of marine life, including various species of fish, coral and marine mammals. It is also a UNESCO World Heritage site and is recognized for its diverse ecosystem. The Great Barrier Reef plays a vital role in maintaining the health of the ocean's ecosystem and is a popular destination for tourists, attracting millions of visitors every year. However, the reef is facing significant threats from climate change, pollution, and overfishing, which have led to coral bleaching and other environmental damage.

41. Where is the Great Barrier Reef located ?
- A) Off the coast of India
 - B) Off the coast of Australia
 - C) Near the Pacific Ocean
 - D) Near the coast of Africa
42. How long is the Great Barrier Reef ?
- A) 1,500 kilometers
 - B) 2,300 kilometers
 - C) 3,500 kilometers
 - D) 4,000 kilometers
43. What is one of the major threats to the Great Barrier Reef ?
- A) Earthquakes
 - B) Climate change
 - C) Tsunami
 - D) Deforestation
44. What role does the Great Barrier Reef play in the ocean's ecosystem ?
- A) It is a major source of fresh water
 - B) It helps maintain the health of the ocean's ecosystem
 - C) It is an important food source for humans
 - D) It acts as a barrier against ocean waves

SPACE FOR ROUGH WORK

A



45. Choose the correct meaning of the idiom : “A blessing in disguise”.

- A) A bad situation turned into a good one
- B) A blessing that remains hidden
- C) A disguised blessing
- D) A difficult situation

46. Choose the correct synonym for the word “Brave”.

- | | |
|---------------|-------------|
| A) Scared | B) Cowardly |
| C) Courageous | D) Weak |

47. Choose the correct sentence.

- A) She are going to the market
- B) She is going to the market
- C) She were going to the market
- D) She go to the market

48. Choose the word that is most similar in meaning to “Optimistic”.

- | | |
|----------------|------------|
| A) Pessimistic | B) Hopeful |
| C) Depressed | D) Angry |

49. Find the error in the following sentence.

“His father has gave him a new laptop.”

- | | |
|--------|-----------|
| A) His | B) father |
| C) has | D) gave |

50. Choose the correct word to fill in the blank.

“She was tired, _____ she decided to take a nap”.

- | | |
|--------|--------|
| A) and | B) but |
| C) or | D) so |

SPACE FOR ROUGH WORK

A